

Часть I

A1

Упростите выражение $\frac{11^{1,5}}{11^{0,3}}$.

- 1) 1,2 2) 5 3) $11^{1,2}$ 4) 11^5

Решение: $\frac{11^{1,5}}{11^{0,3}} = 11^{1,5-0,3} = 11^{1,2}$

Ответ 3)

A2

Вычислите: $\sqrt[3]{8 \cdot 0,125}$.

- 1) 1 2) 2 3) 2, 5 4) 0,001

Решение: $\sqrt[3]{8 \cdot 0,125} = \sqrt[3]{8} \cdot \sqrt[3]{0,125} = 2 \cdot 0,5 = 1$.

Ответ 1)

A3

Вычислите: $\log_3 162 - \log_3 6$

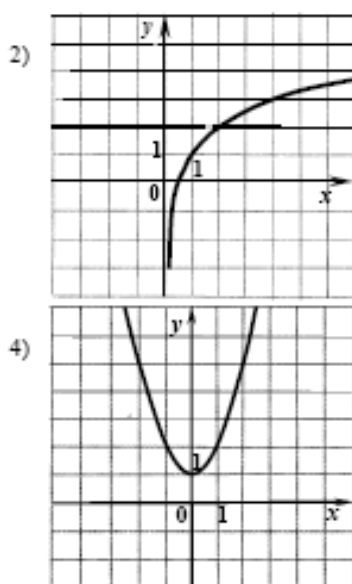
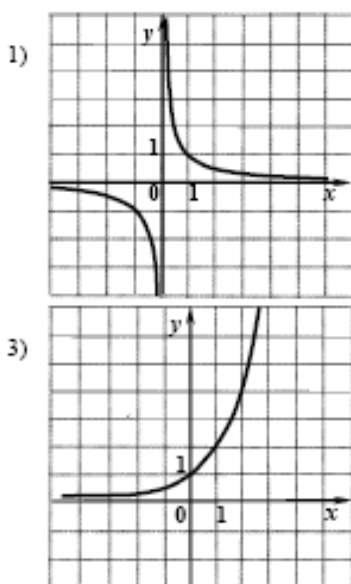
- 1) 156 2) 27 3) 3 4) 52

Решение: $\log_3 162 - \log_3 6 = \log_3 \frac{162}{6} = \log_3 27 = 3$.

Ответ 3)

A4

На одном из рисунков изображён график функции $y = 2^x$. Укажите номер этого рисунка.



Решение: 1) – гипербола , 2) логарифмическая функции, 3) показательная функция, 4) парабола

Получаем $\frac{5 \cdot 1}{4(1-2)} = \frac{5}{-4} = -1\frac{1}{4}$, знак выражения отрицательный, значит слева от 0 и справа от 2 значения выражения положительны. $x \neq 2$. Знаменатель дроби не может быть равным нулю.

Ответ $(-\infty; 0] \cup (2; +\infty)$.

Записать ответ: 1)

A9 Решите уравнение $2\sin x = 1$

1) $(-1)^n \frac{\pi}{6} + \pi n, n \in Z$ 2) $\frac{\pi}{2} + 2\pi n, n \in Z$ 3) $(-1)^{n+1} \frac{\pi}{6} + \pi n, n \in Z$ 4) $-\frac{\pi}{2} + 2\pi n, n \in Z$

Решение: $2\sin x = 1 \Leftrightarrow \sin x = 0,5 \Leftrightarrow x = (-1)^n \arcsin 0,5 + \pi n, n \in Z \Leftrightarrow x = (-1)^n \frac{\pi}{6} + \pi n, n \in Z$.

Ответ 1)

A10 Решите неравенство $4^{x-2,7} > \frac{1}{64}$

1) $(-5; +\infty)$ 2) $(-\infty; 0,3)$ 3) $(-\infty; -5,7)$ 4) $(-0,3; +\infty)$

Решение: $4^{x-2,7} > \frac{1}{64} \Leftrightarrow 2^{2(x-2,7)} > 2^{-6} \Leftrightarrow 2(x-2,7) > -6 \Leftrightarrow x-2,7 > -3 \Leftrightarrow x > 2,7-3 \Leftrightarrow x > -0,3$

Ответ 4).

B1 Решите уравнение $8 \cdot 3^{\log_3 x} = 13x - 6$

Решение: $8 \cdot 3^{\log_3 x} = 13x - 6 \Rightarrow 8x = 13x - 6 \Leftrightarrow 8x - 13x = -6 \Leftrightarrow -5x = -6 \Leftrightarrow x = 1,2$ ОДЗ $x >$

0

Записать ответ 1,2.

B2

Решите уравнение $\sqrt{x^2 - 24} = 1$.

(Если уравнение имеет более одного корня, то в бланке ответов запишите меньший корень.)

$$\sqrt{x^2 - 24} = 1 \Rightarrow (\sqrt{x^2 - 24})^2 = 1^2 = x^2 - 24 = 1 \Leftrightarrow x^2 - 25 = 0 \Leftrightarrow (x-5)(x+5) = 0 \Leftrightarrow x_1 = 5; x_2 = -5.$$

Проверим подстановкой в первоначальное уравнение

$$\sqrt{5^2 - 24} = \sqrt{25 - 24} = \sqrt{1} = 1. 5 - \text{корень.}$$

$$\sqrt{(-5)^2 - 24} = \sqrt{25 - 24} = \sqrt{1} = 1. -5 - \text{корень.}$$

Меньший корень -5.

Зависать ответ : - 5.

B3 Найдите значение выражения $8\cos^2 \alpha - 2\sin^2 \alpha$, если $\sin \alpha = -0,2$.

Решение: $8\cos^2\alpha - 2\sin^2\alpha = 8(1 - \sin^2\alpha) - 2\sin^2\alpha = 8(1 - (-0,2)^2) - 2(-0,2)^2 = 8 \cdot 0,96 - 2 \cdot 0,04 = 7,6$

Записать ответ: 7,6

Часть II

В4 Решите уравнение $3^x - 6 \cdot (\sqrt{3})^x - 27 = 0$.

(Если уравнение имеет более одного корня, то в бланке ответов запишите их произведение.)

$$3^x - 6 \cdot (\sqrt{3})^x - 27 = 0 \Leftrightarrow (\sqrt{3})^{2x} - 6 \cdot (\sqrt{3})^x - 27 = 0 \mid (\sqrt{3})^x = t |;$$

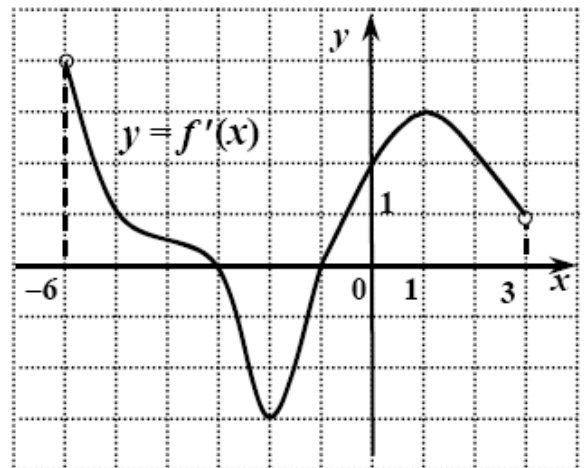
$$t^2 - 6t - 27 = 0 \Leftrightarrow t_1 = -3, t_2 = 9.$$

Решение: $(\sqrt{3})^x = -3$ – решений нет.

$$(\sqrt{3})^x = 9 \Leftrightarrow 3^{\frac{x}{2}} = 3^2 \Leftrightarrow \frac{x}{2} = 2 \Leftrightarrow x = 4.$$

Записать ответ: 4.

В5 Функция $y = f(x)$ определена на промежутке $(-6; 3)$. На рисунке изображен график ее производной. Укажите точку максимума функции $y = f(x)$ на промежутке $(-6; 3)$.



Решение: В точке максимума значение производной равно нулю и производная меняет знак с + на -.

Из двух точек на оси абсцисс этим условиям соответствует точка $x = -3$.

Записать ответ: - 3.

В6 Вычислите значение выражения

$$8^{\log_8 6} + 625^{\log_{25} \sqrt{13}}.$$

Решение: $8^{\log_8 6} + 625^{\log_{25} \sqrt{13}} = 6 + 25^{2 \log_{25} \sqrt{13}} = 6 + 13 = 19$

Записать ответ: 19.

B7 Найдите количество целочисленных решений неравенства

$$\frac{x^2 - 3x - 10}{1 + \sqrt{4 - x^2}} \leq 0.$$

Решение : Знаменатель дроби число положительное при условии $4 - x^2 \geq 0$. Для того, чтобы выражение было отрицательно нужно выполниться условию $x^2 - 3x - 10 \leq 0$. Значит решения неравенства можно найти решив систему:

$$\begin{cases} x^2 - 3x - 10 \leq 0, \\ 4 - x^2 \geq 0 \end{cases} \Leftrightarrow \begin{cases} (x+2)(x-5) \leq 0, \\ (x-2)(x+2) \leq 0 \end{cases} \Leftrightarrow \begin{cases} \begin{cases} x+2 \leq 0, \\ x-5 \geq 0 \end{cases} \\ \begin{cases} x+2 \geq 0, \\ x-5 \leq 0 \end{cases} \\ \begin{cases} x-2 \geq 0, \\ x+2 \leq 0 \end{cases} \\ \begin{cases} x-2 \geq 0, \\ x+2 \leq 0 \end{cases} \end{cases} \Leftrightarrow \begin{cases} \text{нет решений} \\ -2 \leq x \leq 5 \\ \text{нет решений} \end{cases} \Leftrightarrow \begin{cases} -2 \leq x \leq 5 \\ -2 \leq x \leq 2 \end{cases} \Leftrightarrow -2 \leq x \leq 2$$

Найдём целые решения неравенства -2, -1, 0, 1, 2. Пять решений.
Записать ответ: 5.

B8 Функция $y = f(x)$ определена на всей числовой прямой и является периодической с периодом 6. При $-2 \leq x < 4$ она задается формулой $f(x) = |x - 2| - 3$. Найдите значение выражения $4f(11) - 2f(-15)$.

Решение: Функция периодическая значит $f(x + nT) = f(x - nT) = f(x)$, где T период функции.

$$4f(11) - 2f(-15) = 4f(11 - 2 \cdot 6) - 2f(-15 + 3 \cdot 6) = 4f(-1) - 2f(3) = 4(|-1 - 2| - 3) - 2(|3 - 2| - 3) = 4(3 - 3) - 2(1 - 3) = 0 + 4 = 4.$$

Записать ответ: 4.

B9 Секретарю фирмы поручили разослать письма адресатам по списку. Секретарь, отдав своему помощнику часть списка, содержащую 80% адресатов, взял оставшуюся часть себе и разослал письма по своей части списка за время, в 6 раз меньшее, чем помощник – по своей. Сколько процентов списка адресатов секретарь должен был сразу отдать помощнику (взяв себе остальные), чтобы они, работая с прежней производительностью, выполнили свою работу за одинаковое время?

Решение: Пусть x – производительность секретаря, а y – производительность помощника.

z – число писем для раздачи по адресам. Число писем у секретаря - $0,2z$, а у помощника - $0,8z$.

$0,2z/x$ – время работы секретаря. $0,8z/y$ – время работы помощника. Составим уравнение по условию, что время работы секретаря в 6 раз меньше времени работы помощника.

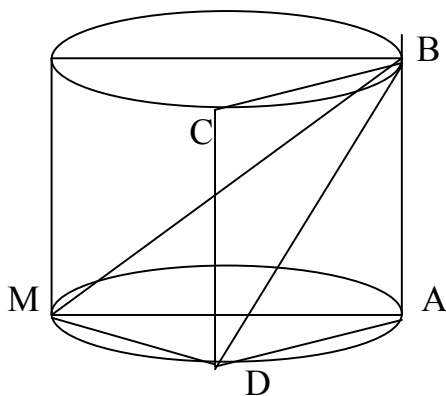
$6(0,2z/x) = 0,8z/y \Leftrightarrow 3/x = 2/y \Leftrightarrow 3y = 2x \Leftrightarrow x = 1,5y$. Получили, что производительность секретаря в 1,5 раза больше чем производительность помощника. Значит, чтобы они работали одинаковое время, секретарю нужно взять в 1,5 раза писем больше, чем помощнику. Найдём процент писем, которые необходимо отдать помощнику.

$$1/(1,5 + 1) \cdot 100\% = 40\%.$$

Записать ответ: 40.

- B10** Через образующую цилиндра AB проведены два сечения, пересекающие основание цилиндра: одно – по диаметру AM , другое – по хорде AD . Угол между плоскостями этих сечений равен 60° . Площадь боковой поверхности цилиндра равна 60π . Найдите площадь того из данных сечений цилиндра, которое проходит через хорду AD .

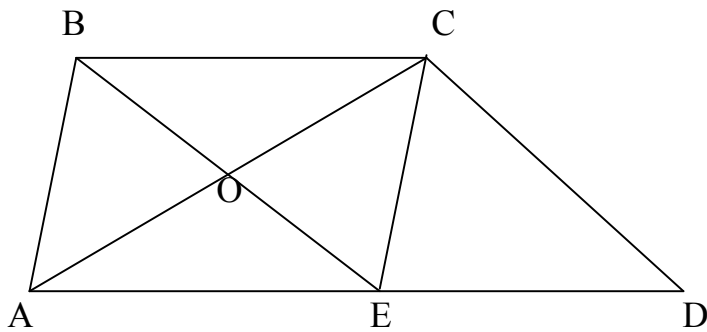
Решение:



Площадь боковой поверхности цилиндра $S_6 = 2\pi rl$, где r – радиус основания цилиндра, l – длина образующей цилиндра, S_6 – площадь боковой поверхности цилиндра.

Отсюда получаем, что $2\pi rl = 60\pi \Leftrightarrow r = 30/l \Rightarrow MA = 60/l$. $\angle MAD = 60^\circ$ Значит $\angle AMD = 30^\circ \Rightarrow DA = 0,5AM \Rightarrow DA = 0,5(60/l) = 30/l$. $S_{ABCD} = DA \cdot AB = (30/l) \cdot l = 30$.
Записать ответ: 30.

- B11** В трапеции $ABCD$ диагональ AC является биссектрисой угла A . Биссектриса угла B пересекает большее основание AD в точке E . Найдите высоту трапеции, если $AC = 8\sqrt{5}$, $BE = 4\sqrt{5}$.



Решение: По условию AC – биссектриса угла A, значит $\angle BAC = \angle CAE$. Аналогично из условия, что BE – биссектриса угла B получаем, что $\angle ABE = \angle CBE$. Прямые BC и AD параллельны, а отрезки BE и AC секущие. Из этого получаем, что $\angle ABE = \angle CBE = \angle BEA$. Значит в $\triangle ABE$ $AB = AE$

$\angle BAC = \angle CAE = \angle ACB$. Значит $AB = BC$. Получаем, что $\triangle AOE = \triangle BOC$ по сторонам $AE = BC$ и $\angle OAE = \angle BCO$, $\angle CBO = \angle AEO$.

Также $\triangle ABO = \triangle COE$ по сторонам $AB = CE$ и $\angle BAO = \angle OCE$, $\angle ABO = \angle CEO$. Из равенства треугольников получаем равенство углов $\angle BOA = \angle COE = \angle AOE = 90^\circ$ и равенство сторон $AO = OC$, $BO = OE$. Получили, что фигура ABCD – ромб. По теореме

Пифагора найдём длину стороны AE. $AE = \sqrt{AO^2 + OE^2} = \sqrt{\left(\frac{AC}{2}\right)^2 + \left(\frac{BE}{2}\right)^2} = \sqrt{80 + 20} = 10$.

Найдём площадь ромба двумя способами: произведение стороны и высоты, произведение диагоналей и приравняем.

$$S = AE \cdot h, S = \frac{AC \cdot BE}{2}$$

$$AE \cdot h = \frac{AC \cdot BE}{2} \Leftrightarrow 10h = \frac{8\sqrt{5} \cdot 4\sqrt{5}}{2} \Leftrightarrow 10h = 80 \Leftrightarrow h = 8.$$

Записать ответ: 8.

C1

Найдите наибольшее значение функции $f(x) = x(2x - 3)^6$ при $|x - 1,5| \leq 0,5$.

Решение:

$$1) |x - 1,5| \leq 0,5 \Leftrightarrow -0,5 \leq x - 1,5 \leq 0,5 \Leftrightarrow 1 \leq x \leq 2.$$

$$2) f'(x) = (2x - 3)^6 + 12x(2x - 3)^5 = (2x - 3)^5(14x - 3).$$

$$f'(x) = 0 \text{ при } x = 1,5, \text{ при } x = \frac{3}{14}.$$

$$\frac{3}{14} \notin [1; 2].$$

$$f(1) = 1, f(1,5) = 0, f(2) = 2.$$

Наибольшее значение функции $y = f(x)$ на отрезке $[1; 2]$ равно 2.

Ответ: 2.**C2**

Найдите все значения x , при каждом из которых выражения

$$\frac{\sin 4x}{\operatorname{tg} 2x} \text{ и } \frac{\cos^4 x - \sin^4 x}{\operatorname{tg} 2x} \text{ принимают равные значения.}$$

Решение:

$$1) \frac{\cos^4 x - \sin^4 x}{\operatorname{tg} 2x} = \frac{\sin 4x}{\operatorname{tg} 2x} \Leftrightarrow \frac{\cos^4 x - \sin^4 x - \sin 4x}{\operatorname{tg} 2x} = 0.$$

$$2) \frac{(\cos^4 x - \sin^4 x) - 2 \sin 2x \cos 2x}{\operatorname{tg} 2x} = 0 \Leftrightarrow \frac{\cos 2x(1 - 2 \sin 2x)}{\operatorname{tg} 2x} = 0 \Leftrightarrow$$

$$\begin{cases} \cos 2x(1 - 2 \sin 2x) = 0 \\ \cos 2x \neq 0 \\ \sin 2x \neq 0 \end{cases} \Leftrightarrow \begin{cases} 1 - 2 \sin 2x = 0 \\ \cos 2x \neq 0 \\ \sin 2x \neq 0 \end{cases} \Leftrightarrow x = (-1)^n \cdot \frac{\pi}{12} + \frac{\pi n}{2}, n \in \mathbb{Z}.$$

$$\text{Ответ: } (-1)^n \cdot \frac{\pi}{12} + \frac{\pi n}{2}, n \in \mathbb{Z}.$$

С3 Найдите все значения $x > 1$, при каждом из которых наибольшее из двух чисел $a = \log_2 x + 2 \log_x 32 - 2$ и $b = 41 - \log_2^2 x^2$ больше 5.

Решение:

Так как $x > 1$, то $\log_2 x > 0$.

$$1) a > 5 \Leftrightarrow \log_2 x + 2 \log_x 32 - 2 > 5 \Leftrightarrow \frac{\log_2^2 x - 7 \log_2 x + 10}{\log_2 x} > 0 \Leftrightarrow$$

$$\Leftrightarrow (\log_2 x - 2) \cdot (\log_2 x - 5) > 0 \Leftrightarrow \begin{cases} \log_2 x > 5 \\ \log_2 x < 2. \end{cases}$$

$$2) b > 5 \Leftrightarrow 41 - \log_2^2 x^2 > 5 \Leftrightarrow 4 \log_2^2 x < 36 \Leftrightarrow \log_2^2 x < 9 \Leftrightarrow \log_2 x < 3.$$

3) Наибольшее из чисел a и b больше 5 тогда и только тогда, когда хотя бы одно из них больше 5, т.е. когда

$$\begin{cases} a > 5 \\ b > 5 \end{cases} \Leftrightarrow \begin{cases} \log_2 x > 5 \\ \log_2 x < 3 \end{cases} \Leftrightarrow \begin{cases} x > 32 \\ x < 8. \end{cases}$$

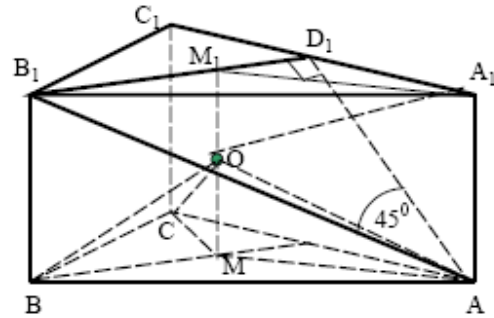
Ответ: $1 < x < 8, x > 32$.

С4

В шар радиусом $\sqrt{11}$ вписана правильная треугольная призма $ABCA_1B_1C_1$. Прямая AB_1 образует с плоскостью ACC_1 угол 45° . Найдите объём призмы.

Решение:

1) Пусть D_1 – середина ребра A_1C_1 . Так призма правильная, то $B_1D_1 \perp A_1C_1$ и $CC_1 \perp B_1D_1$, и по признаку перпендикулярности прямой и плоскости $B_1D_1 \perp ACC_1$. Значит, $\angle B_1AD_1 = 45^\circ$ как угол между прямой B_1A и плоскостью ACC_1 .



2) Пусть M и M_1 – центры оснований призмы, тогда $AM = BM = CM$ и $A_1M_1 = B_1M_1 = C_1M_1$. Так как призма правильная, то $OM \perp ABC$, где O – середина отрезка MM_1 . Следовательно, по свойству наклонных и проекций $OA = OB = OC$ и $OA_1 = OB_1 = OC_1$. Так как $OM = OM_1$ и $AM = A_1M_1$, то прямоугольные треугольники OMA и OM_1A_1 равны по двум катетам. Значит, $OA = OA_1$. Следовательно, точка O равноудалена от всех вершин призмы $ABCA_1B_1C_1$ и поэтому является центром описанного около нее шара. Из условия радиус шара $R = OA = \sqrt{11}$.

3) Пусть $AB = a$. Тогда $B_1D_1 = \frac{a\sqrt{3}}{2}$. Но $\triangle B_1D_1A$ прямоугольный и $\angle B_1AD = 45^\circ$. Следовательно, $AB_1 = \frac{B_1D_1}{\sin 45^\circ} = \frac{a\sqrt{6}}{2}$. Из $\triangle ABB_1$

$$BB_1 = \sqrt{AB_1^2 - AB^2} = \sqrt{\frac{3a^2}{2} - a^2} = \frac{a}{\sqrt{2}}.$$

4) Отрезок $MA = \frac{2}{3}B_1D_1 = \frac{a}{\sqrt{3}}$, отрезок $OM = \frac{1}{2}BB_1 = \frac{a}{2\sqrt{2}}$. Поэтому

из прямоугольного $\triangle OMA$ имеем $\frac{a^2}{8} + \frac{a^2}{3} = 11$. Следовательно,

$a = 2\sqrt{6}$. Объём призмы находим по формуле $V = S_{ABC} \cdot BB_1$. Но

$$S_{ABC} = \frac{a^2\sqrt{3}}{4}, \quad BB_1 = \frac{a}{\sqrt{2}}, \quad a = 2\sqrt{6}. \quad \text{Отсюда } V = 36.$$

Ответ: 36.

C5

Найдите все значения параметра p , при каждом из которых уравнение

$$(1,5p - 7) \cdot 32^{0,4x+0,2} + (29p - 154) \cdot 0,125^{\frac{-x}{3}} + 11p - 41 = 0$$

имеет ровно $10p - p^2 - 24$ различных корней.

Решение:

1) По свойствам степеней

$$32^{0,4x+0,2} = (2^5)^{0,4x+0,2} = 2^{2x+1} = 2 \cdot 4^x, \quad 0,125^{\frac{-x}{3}} = (2^{-3})^{\frac{-x}{3}} = 2^x.$$

Поэтому данное уравнение имеет вид $(3p - 14)4^x + (29p - 154)2^x + 11p - 41 = 0$.

2) Пусть $t = 2^x > 0$. Тогда $(3p - 14)t^2 + (29p - 154)t + 11p - 41 = 0$. (*)

Получили квадратное уравнение относительно t . Значит, число n различных корней исходного уравнения не больше 2.

Если $n = 2$, то по условию $10p - p^2 - 24 = 2$, $p^2 - 10p + 26 = 0$, что невозможно, т.к. $D = -4 < 0$.

3) Если $n = 1$, то $10p - p^2 - 24 = 1$, $p^2 - 10p + 25 = 0$, $p = 5$. Тогда уравнение (*) примет вид $t^2 - 9t + 14 = 0$, $t_1 = 2$, $t_2 = 7$. Так как $t = 2^x$, то $x_1 = 1$, $x_2 = \log_2 7$. Поэтому исходное уравнение имеет 2 корня, что противоречит $n = 1$.

4) Если $n = 0$, то $10p - p^2 - 24 = 0$, $p^2 - 10p + 24 = 0$, $p_1 = 4$, $p_2 = 6$.

Пусть $p = 4$. Тогда уравнение (*) примет вид $-2t^2 - 38t + 3 = 0$. Ветви параболы направлены вниз, ось Oy она пересекает выше точки $(0; 0)$.

Поэтому уравнение (*) имеет ровно один положительный корень t_0 и исходное уравнение имеет ровно один корень $x = \log_2 t_0$. Значит, $n = 1$, что противоречит $n = 0$.

5) Если $n = 0$, а $p = 6$, то уравнение (*) примет вид $4t^2 + 20t + 25 = 0$, $t = -2,5$. Так как $t = 2^x > 0$, то исходное уравнение не имеет корней. Значит, $n = 0$, т.е. $p = 6$ удовлетворяет условию задачи.

Ответ: 6.